

のんほいパーク たんけんシート 目の^め違^{ちが}いと食^たべ物^{もの}編

日にち: 月 日 学校名: _____




_____ 年 組 番 なまえ: _____

もんだい 問題1

にくしょくどうぶつ そうしょくどうぶつ め いち ず め
肉食動物と草食動物の目の位置をくらべてみよう！図に目をかきくわえてね。

ライオン

きそうま



もんだい 問題2 ライオンときそうまをくらべてみよう

- | | | |
|-------------------|------|------|
| ①にくをたべるのはどちらかな | ライオン | きそうま |
| ②くさをたべるのはどちらかな | ライオン | きそうま |
| ③えものをおいかけるのはどちらかな | ライオン | きそうま |
| ④てきをけいはいするのはどちらかな | ライオン | きそうま |

もんだい 問題3 もんだい ず み 問題1の図を見てこたえよう

- ①ひろいはんい^みを見ることができ^めるのはどちらの目かな
- ライオン^めの目 きそうま^めの目
- ②はんいはせまいけれど、両目^{りょうめ}で見ることができ^めるのはどちらの目かな
- ライオン^めの目 きそうま^めの目

先生
かくにん欄