

# のんほいパーク たんけんシート どうぶつの歩き方編 ある かな

日にち:      月      日      学校名: \_\_\_\_\_

年      組      番      なまえ: \_\_\_\_\_


**もんだい 問題1**

かかととはどこかな? ヒトの あし 足の やじるし ように さ 矢印で さ 指してみよう!


**ヒト**



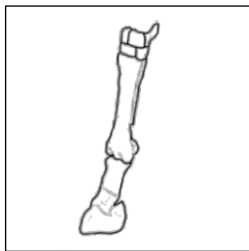
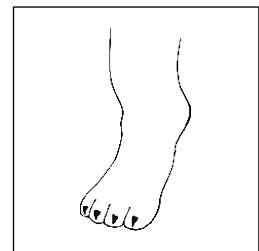
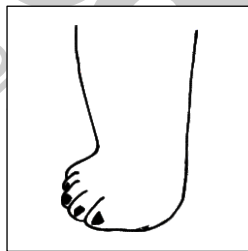
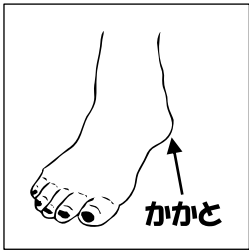

**ホッキョクグマ**



**ウマ**

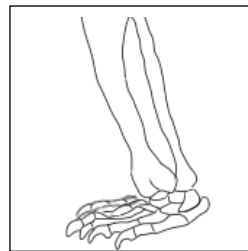


**ライオン**



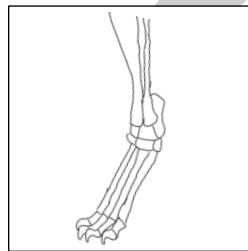
ゆび ほん  
**指は1本**

さき た  
つま先で立っている



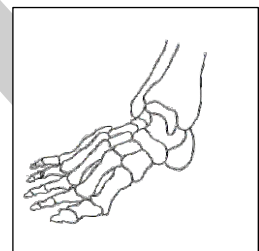
ゆび ほん  
**指は5本**

かかとを地面につけている



ゆび ほん  
**指は4本**

ゆび さき た  
指の先だけで立っている



ゆび ほん  
**指は5本**

かかとを地面につけている

**もんだい 問題2**

うえ 上の ほね ほねは どうぶつ どの あし 動物の ただ あしかな? ヒトの足の ただ ように ただ 正しいと

おも 思うものを せん 線で せん むすんでみよう!

先生  
かくにん欄